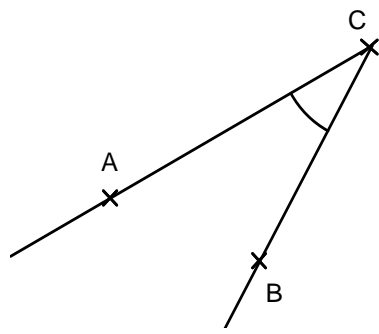
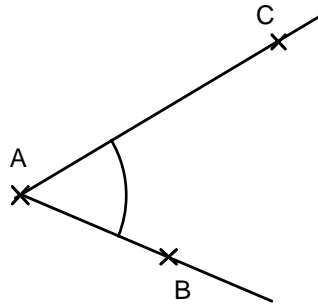


Tracer des angles

Entraînement 1 : Nomme les angles suivants

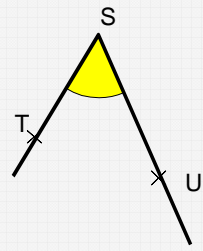


Cet angle a pour nom : $\widehat{\text{ACB}}$
ou $\widehat{\text{BCA}}$



Cet angle a pour nom : $\widehat{\text{CAB}}$
ou $\widehat{\text{BAC}}$

LE NOM DES ANGLES




Cet angle a pour sommet le point S.


Il se nomme : $\widehat{\text{TSU}}$ ou $\widehat{\text{UST}}$

Entraînement 2 : Trace les angles suivants


$\widehat{\text{LMN}}$



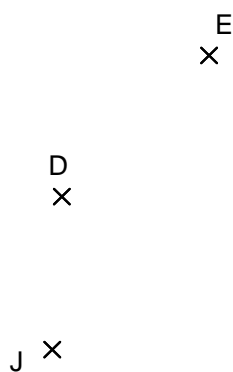
$\widehat{\text{NML}}$



$\widehat{\text{NLM}}$



Entraînement 3 : Trace les angles $\widehat{\text{DFE}}$, $\widehat{\text{GHI}}$, $\widehat{\text{JKL}}$, $\widehat{\text{MON}}$



F

G

H

I

O

K

L

M

N

