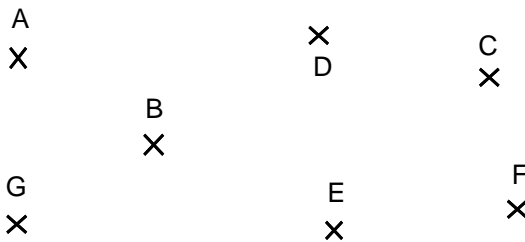
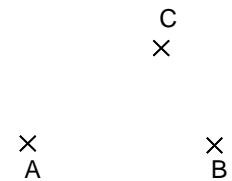


**Entraînement 1**

Quel est le nombre de points représentés sur la figure ci-contre ?

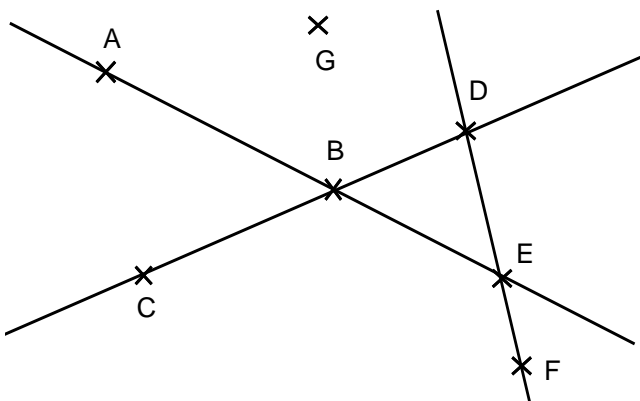



**POINTS**



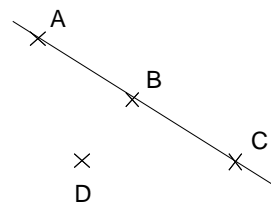
sur cette figure, on a représenté 3 points.  
Le point A, le point B et le point C

**Entraînement 2** Réponds aux questions par OUI ou NON.



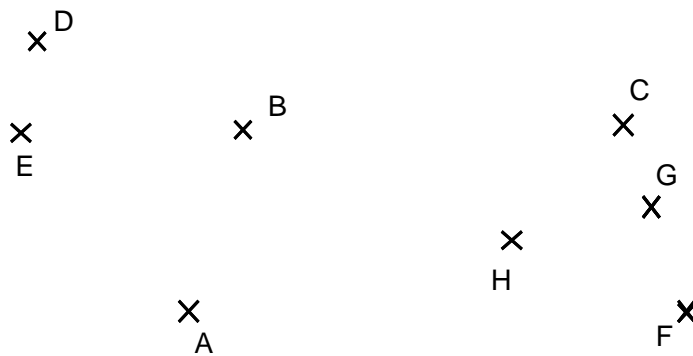
- Les points A,B et E sont-ils alignés ? .....
- Les points A,B et F sont-ils alignés ? .....
- Les points C,D et B sont-ils alignés ? .....
- Les points G,B et F sont-ils alignés ? .....

**POINTS ALIGNÉS**



Les points A,B et C sont **alignés**.  
Les points A,B et D ne **pas alignés**.

**Entraînement 3** Réponds aux questions



- (a) Les points A, F et H sont-ils alignés ? .....
- (b) Les points A,B et C sont-ils alignés ? .....
- (c) Les points C, G et H sont-ils alignés ? .....
- (d) Les points C, G et F sont-ils alignés ? .....
- (e) Les points E, B et C sont-ils alignés ? .....
- (f) Trouve 4 points alignés : .....
- (g) Place sur la figure le point I qui est aligné avec les points E et F et avec les points A et B

