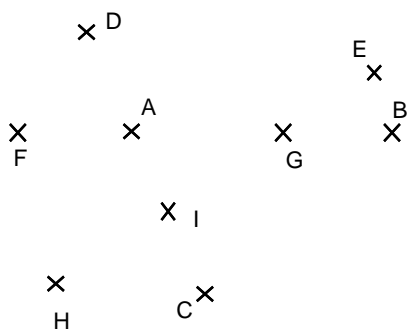
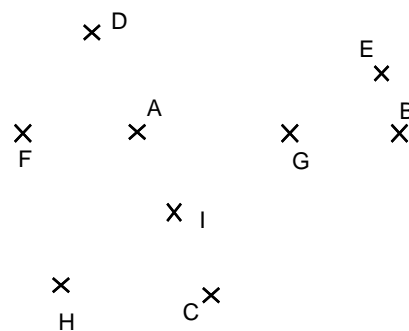


Entraînement 1

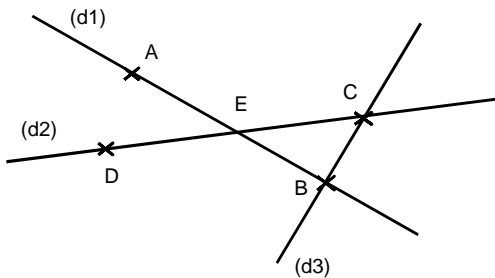


Trace la droite ( AB ), la droite (HG ), la droite ( AC ).  
 Quel est le point d'intersection des droites ( AB ) et (HG ) ? .....  
 Quel est le point d'intersection des droites ( AB ) et (HE ) ? .....



Trace le segment [ FH ], le segment [ CB ].  
 Trace le segment [ DI ], le segment [ IE ].  
 Trace le segment [ DE ].

Entraînement 2



- (a) Donne tous les noms possibles pour la droite (d1) :  
 (d1) (AB) (BA) (AE) (EA) (EB) (BE)
- (b) Donne tous les noms possibles pour la droite (d2) :  
 (d2) (DE) ..... (EC) ..... (DC) .....
- (c) Donne tous les noms possibles pour la droite (d3) :  
 ..... .....

Entraînement 3



Droite (CD)




Segment .....



.....



.....



..... [CD]



..... (FD)



..... [EF]

