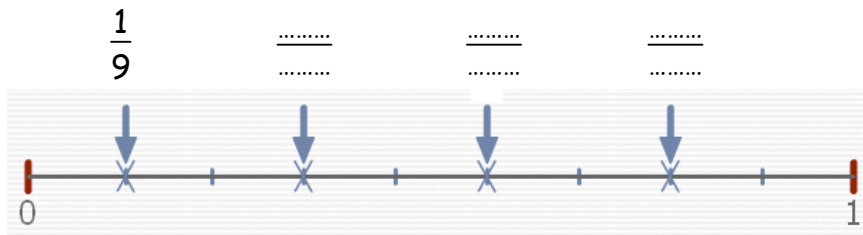
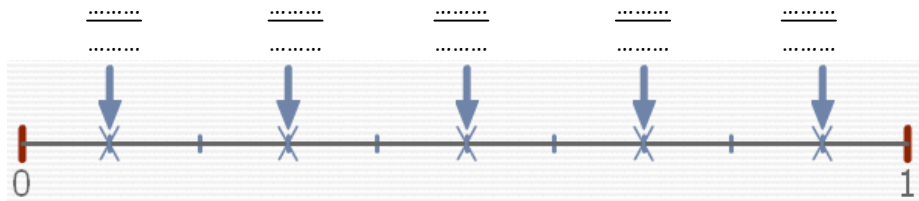


**Entraînement 1** Complète les pointillés



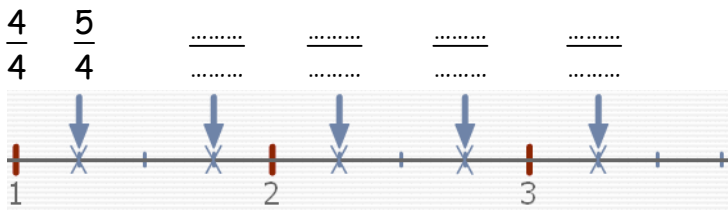
L'unité est partagée en 9



L'unité est partagée en 10



L'unité est partagée en .....

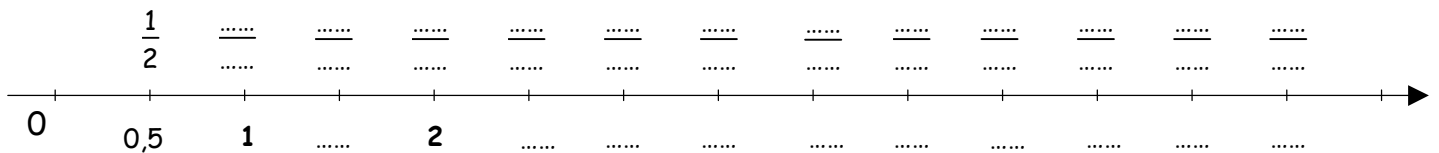


L'unité est partagée en .....

**Entraînement 2** les dixièmes



**Entraînement 3** les  $\frac{1}{2}$ , les demis.



**Entraînement 4** les  $\frac{1}{4}$ , les quarts.

