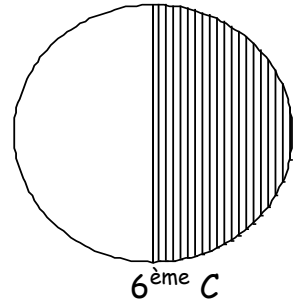
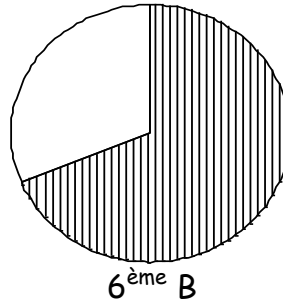
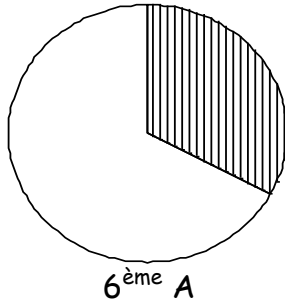


Entraînement 1 complète le tableau à l'aide du diagramme circulaire

- filles
- garçons



En 6^{ème} A, il y a plus de *filles* que de, il y a moins de que de

En 6^{ème} B, il y a plus de que de, il y a moins de que de

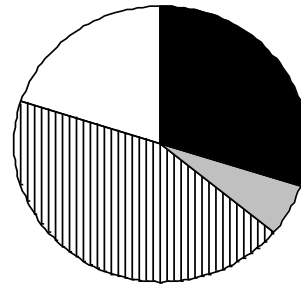
En 6^{ème} C, il y a autant de que de

Entraînement 2 complète le graphique à l'aide du diagramme circulaire

Au marché de Sainte Anne, on a compté le nombre de fruits vendus pour une journée.

Quel est le fruit le plus vendu dans cette journée ?

Quel est le fruit le moins vendu dans cette journée ?



- Mangues
- Bananes
- Oranges
- Papayes

Yasmina dit que l'on a vendu plus de Bananes que de Mangues, a t-elle raison ?

Yasmina dit que l'on a vendu plus de Oranges que de Papayes, a t-elle raison ?

Yasmina dit que l'on a vendu autant de Papayes que de Mangues, a t-elle raison ?

Tom dit que l'on a vendu moins de Oranges que de Mangues, a t-il raison ?

Tom dit que l'on a vendu moins de Mangues que de Papayes, a t-il raison ?

Entoure le graphique qui correspond le mieux à cette situation.

