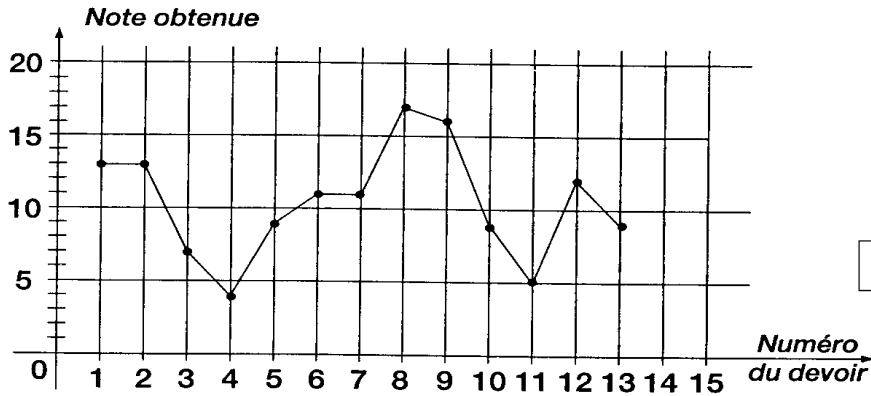
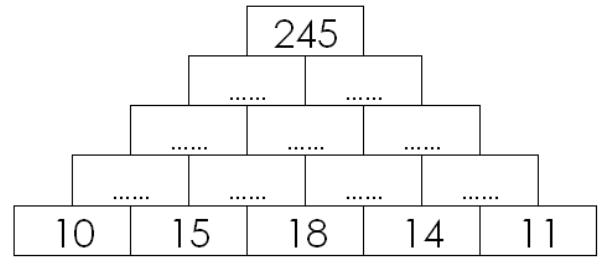


Entraînement 1

Un élève a reporté sur le graphique ci-après les notes de ses devoirs.



jeux de maths

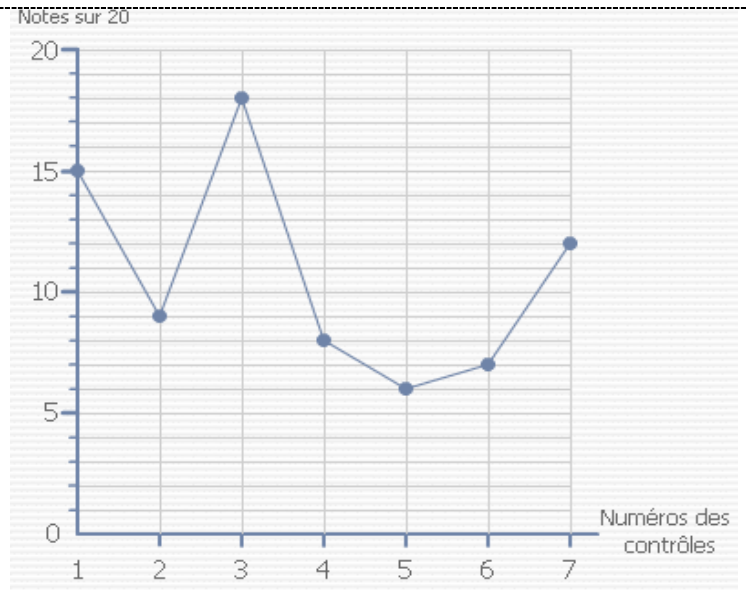


Complète le tableau ci-après :

Numéro du devoir	1	2	3	4	5	6	7	8	9	10	11	12	13
Note obtenue	13		7										

Entraînement 2

- Combien y a-t-il eu de contrôles ?
.....
- Quelle est la note obtenue au contrôle 2 ?
.....
- A quel contrôle, l'élève a-t-il obtenu la note 12 ?
.....
- Entoure** les notes supérieures à la note 10 ?
- Souligne** les notes sont inférieures à la note 10 ?
- Quelle est la note maximale ? (la plus grande)
.....
- Quelle est la note minimale ? (la plus petite)
.....

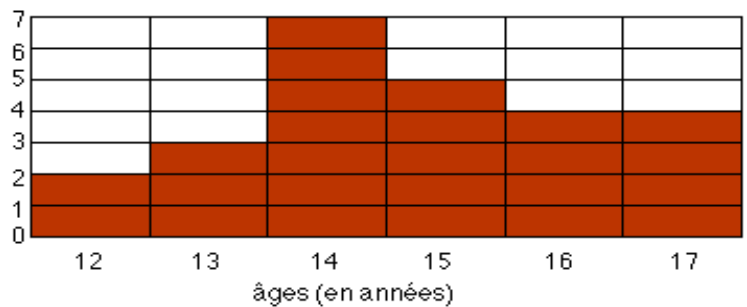


Entraînement 3

L'histogramme ci-dessous donne les âges des membres d'un club de natation.

a) Combien de nageurs ont 13 ans ?
.....

Nombre de personnes



b) Complète le tableau ci-après :

Age	12 ans	13 ans	14 ans	15 ans	16 ans	17 ans	Total
Nombre de personnes	2						

