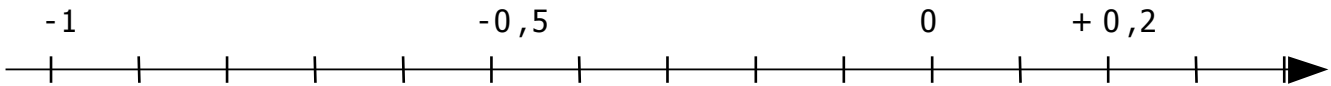
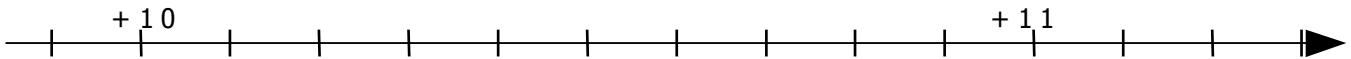
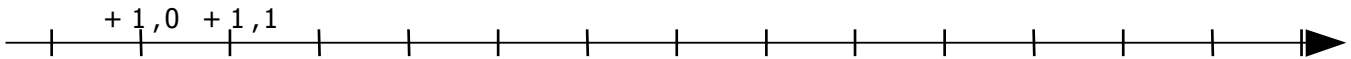
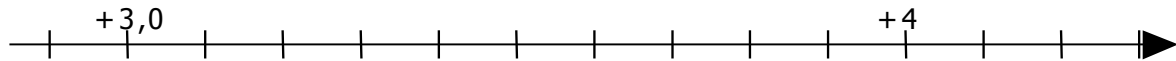


Entraînement 1 Place sur chaque axe, les nombres correspondants aux graduations

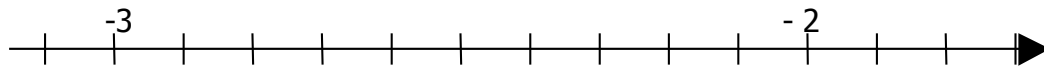


Entraînement 2

Place le nombre + 3,5 et le nombre + 4,1

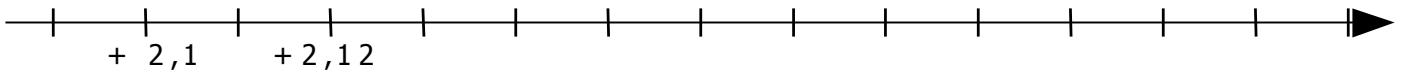


Place les nombres : - 2,5 - 2,7 - 1,9 - 3,1

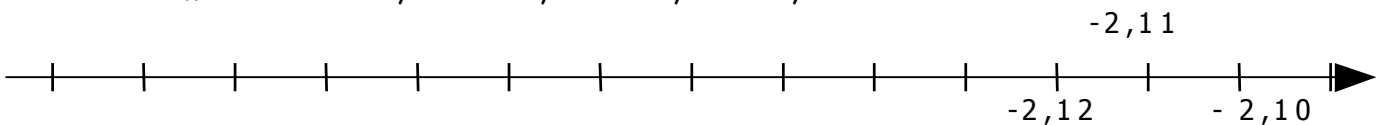


Entraînement 3 Place sur chaque axe, les nombres

Place les nombres : + 2,15 + 2,17 + 2,2 + 2,22
+ 2,11



Place les nombres : - 2,15 - 2,17 - 2,2 - 2,22



Entraînement 4 Complète les listes de nombres

+ 2 ; + 3 ; + 4 ; + 5 ; ; ; ; ;

..... ; ; ; ; ; ; ; - 8 ; - 7 ; - 6 ; - 5

+ 7 ; + 7,1 ; + 7,2 ; + 7,3 ; ; ; ; ;

..... ; ; ; ; ; ; ; - 3,2 ; - 3,1 ; - 3

..... ; ; ; ; ; ; ; - 5,12 ; - 5,11 ; - 5,10

