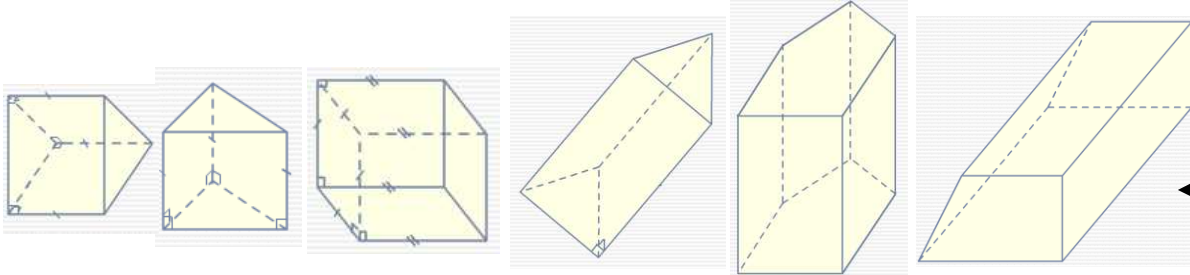


## Entraînement 1

## Le prisme droit

- C'est un solide.
- Il possède deux bases parallèles qui font partie de la famille des polygones,
- Toutes les faces latérales sont des rectangles.

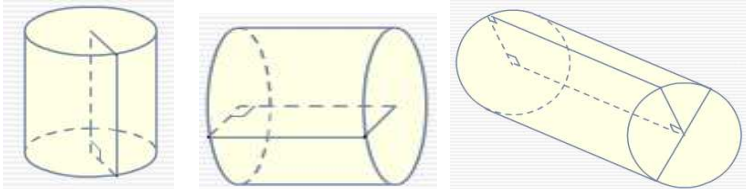


Colorie la base de ces prismes et repasse en rouge une hauteur

## Entraînement 2

## Le cylindre

- C'est un solide,
- Il possède deux bases parallèles qui sont des cercles,
- La face latérale est un rectangle.

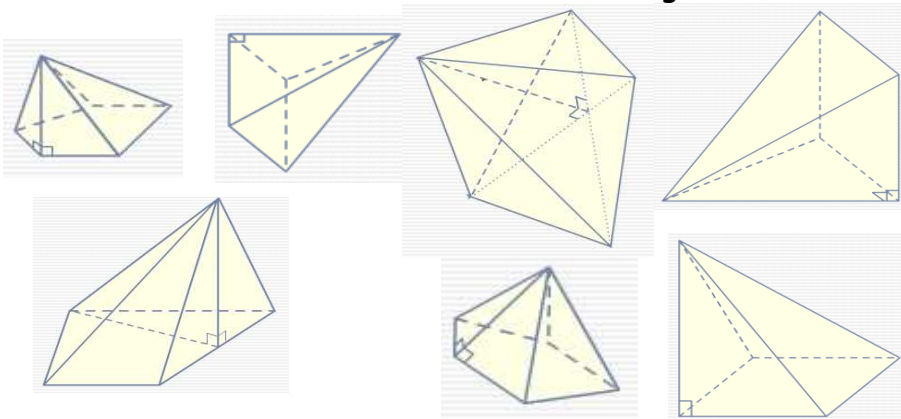


Colorie la base de ces cylindres et repasse en rouge une hauteur

## Entraînement 3

## La pyramide

- C'est un solide,
- Elle possède une base qui fait partie de la famille des polygones,
- Elle possède un sommet.
- Les faces latérales sont des triangles.

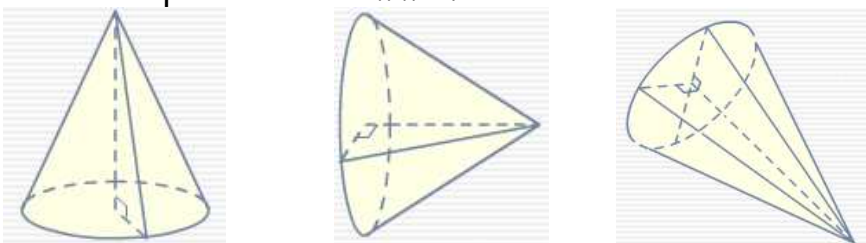


Colorie la base de ces pyramides et repasse en rouge une hauteur

## Entraînement 4

## Le cône

- C'est un solide,
- Il possède une base qui est un cercle.
- Il possède un sommet.



Colorie la base de ces cônes et repasse en rouge une hauteur

