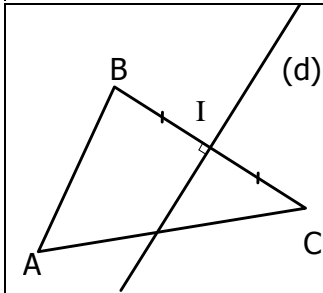
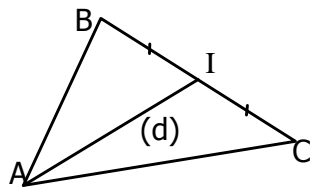


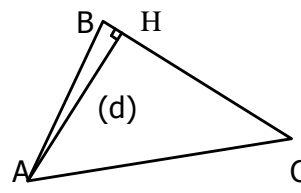
**Entraînement 1** Lis la leçon sur le côté et complète les pointillés



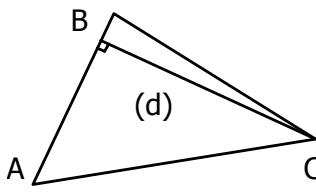
La droite (d) passe par ..... du segment [BC] et est ..... à ce segment, c'est donc la ..... du segment [BC]



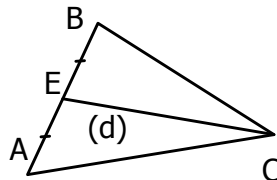
La droite (d) passe par ..... du segment [BC] et passe par ..... , c'est donc la ..... issue du sommet .....



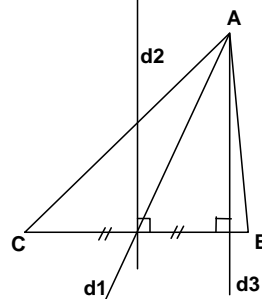
La droite (d) est ..... au segment [BC] et passe par ..... , c'est donc la ..... issue du sommet .....



La droite (d) est ..... au segment [AB] et passe par ..... , c'est donc la ..... issue du sommet .....

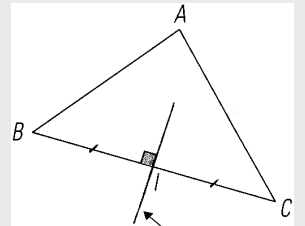


La droite (d) passe par ..... du segment [AB] et passe par ..... , c'est donc la ..... issue du sommet .....



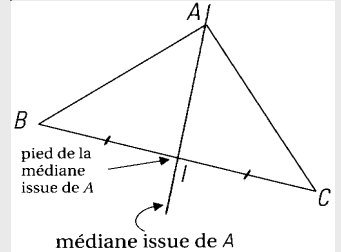
- d1 est une .....
- d2 est une .....
- d3 est une .....

**MEDIATRICE DANS UN TRIANGLE**



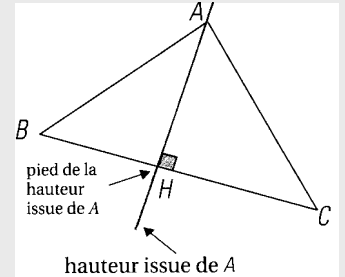
médiatrice du côté BC  
La **médiatrice** du segment [BC] est la droite qui passe par le **milieu** du segment [BC] et qui est **perpendiculaire** à ce segment.

**MEDIANE DANS UN TRIANGLE**



La **médiane** issue du sommet A est la droite qui passe par le **sommet A** et par le **milieu** du côté opposé [BC].

**HAUTEUR DANS UN TRIANGLE**



La **hauteur** issue du sommet A est la droite qui passe par le **sommet A** et qui est **perpendiculaire** au côté opposé [BC].

**Entraînement 2** Coche la bonne réponse.

- |   |                               |
|---|-------------------------------|
| Dans un triangle ABC, la <b>médiatrice</b> du segment [BC] passe obligatoirement par le sommet A.           | <input type="checkbox"/> Vrai |
|   | <input type="checkbox"/> Faux |
| Dans un triangle ABC, la <b>médiane</b> issue du sommet A passe obligatoirement par le milieu du côté [BC]. | <input type="checkbox"/> Vrai |
|   | <input type="checkbox"/> Faux |
| Dans un triangle ABC, la <b>hauteur</b> issue du sommet A passe obligatoirement par le milieu du côté [BC]. | <input type="checkbox"/> Vrai |
|   | <input type="checkbox"/> Faux |
| Dans un triangle ABC, la <b>médiane</b> issue du sommet A est obligatoirement perpendiculaire au côté [BC]. | <input type="checkbox"/> Vrai |
|   | <input type="checkbox"/> Faux |
| Dans un triangle ABC, la <b>hauteur</b> issue du sommet A est obligatoirement perpendiculaire au côté [BC]. | <input type="checkbox"/> Vrai |
|   | <input type="checkbox"/> Faux |

