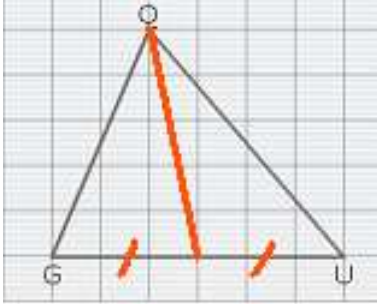


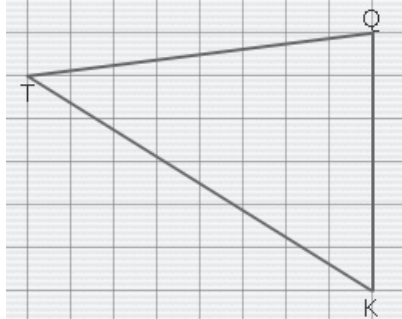
Entraînement 1 Complète avec le bon vocabulaire

Trouve le milieu du segment $[GU]$,
Trace la droite qui passe par le milieu de ce côté et par le sommet opposé.



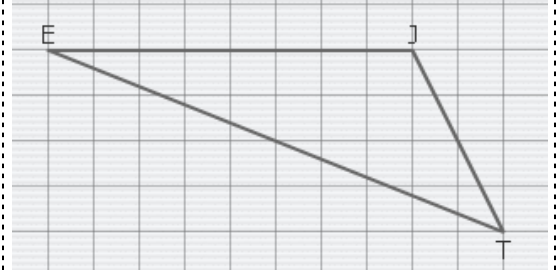
Cette droite s'appelle la **médiane** issue du sommet Q

Trouve le milieu du segment $[QK]$,
Trace la droite qui passe par le milieu de ce côté et par le sommet opposé.



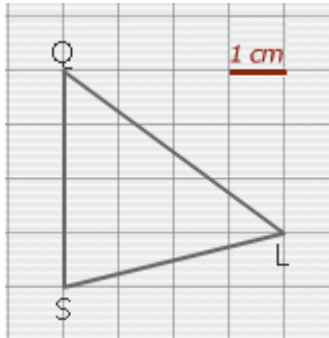
Cette droite s'appelle la **médiane** issue du sommet

Trouve le milieu du segment $[EJ]$,
Trace la droite qui passe par le milieu de ce côté et par le sommet opposé.

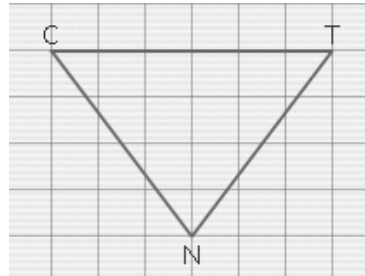


Cette droite s'appelle la issue du sommet

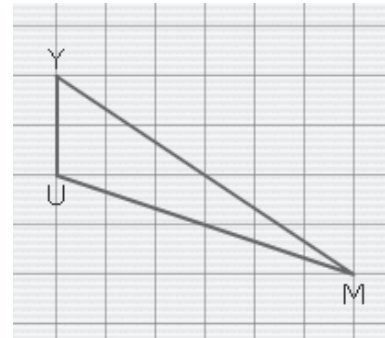
Trace la médiane issue du sommet L



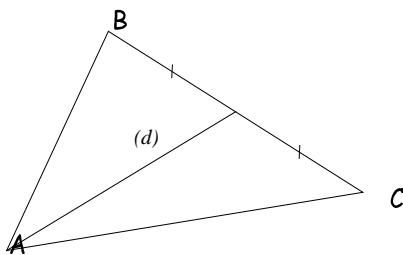
Trace la médiane issue du sommet N



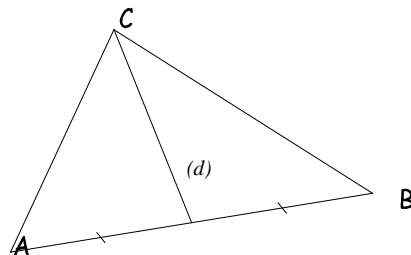
Trace la médiane issue du sommet M



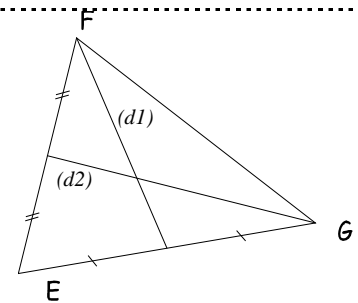
Entraînement 2 Complète avec le bon vocabulaire



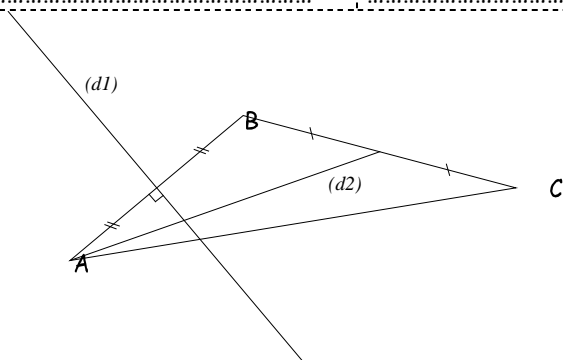
La droite (d) s'appelle la



La droite (d) s'appelle la



La droite $(d1)$ est
La droite $(d2)$ est



La droite $(d1)$ est

La droite $(d2)$ est

